

République Tunisienne
Ministère de l'enseignement supérieur
 Direction Générale des Etudes Technologiques
Institut Supérieur des Etudes Technologiques de Sousse

Département : Mécanique **Filière :** Génie mécanique **Option :** Plasturgie **Classe :** GMPL-2.1

<u>CODE</u>	Nom : Prénom :
	N° de la carte d'étudiant : Date :
	N° de la salle : N° de la place : Signature :

<u>CODE</u>	Département de génie mécanique	DEVOIR SURVEILLÉ PROCÉDÉS DE MISE EN FORME DISCONTINUS	Novembre 2018
			Durée: 1 h 30 min
Note :...../20	Nombre de pages : 4	Proposé par : SLIM CHOUCHE	Documents non autorisés

NB : L'examen comporte Trois exercices indépendants.

EXERCICE 1 : (7.5 POINTS=0.5+0.5+1+1+1+1+1.25+1.25)

1. Que signifie température de transition vitreuse ;

.....

.....

2. Que signifie température de fusion ;

.....

.....

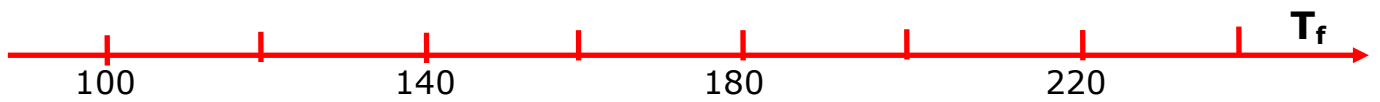
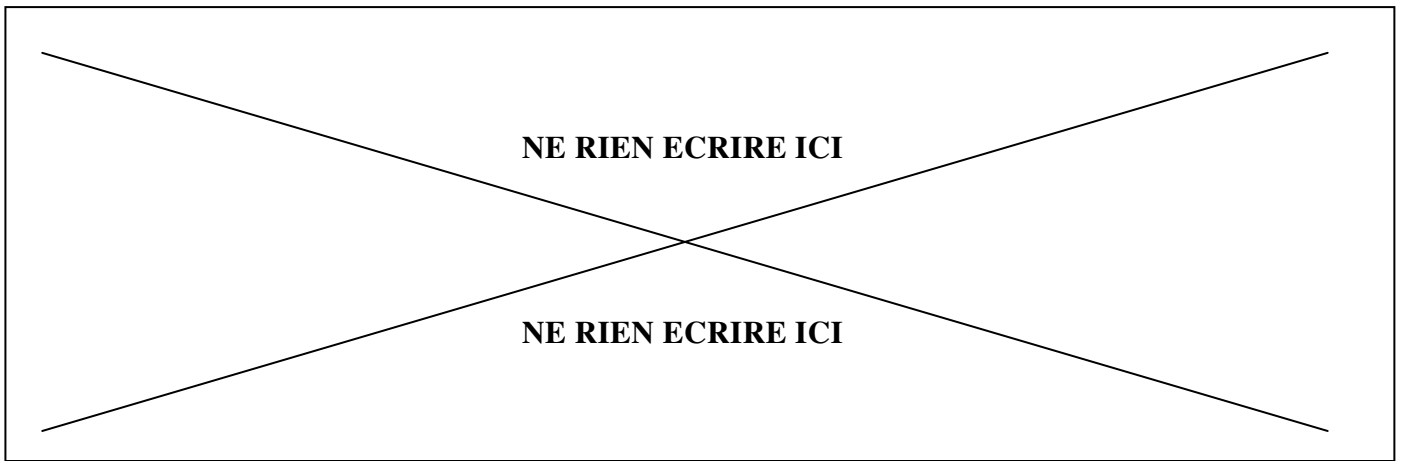
3. Relier par une flèche ;

<i>Si un polymère amorphe a une Tg inférieure à la température ambiante, il sera</i>
<i>Si un polymère amorphe a une Tg au-dessus de la température ambiante, il sera</i>

<i>mou et souple à température ambiante</i>
<i>dur et cassant à température ambiante</i>

4. On cite ci-dessous une variété de matériau plastique, marquer les températures sur les axes T_v et T_f (température ambiante=25°C):

Matériaux	Température de Transition vitreuse (°C)	Température de fusion (ou liquide-liquide) (°C)
PP_{homo}	-10	170
PA	50	215
PS	80	160
PVC	100	190
PMMA	135	180



5. Parmi ces matériaux, lequel qui est souple à la température ambiante ;

.....

6. Parmi ces matériaux, lesquels qui sont durs à la température ambiante ;

.....

7. Si on chauffe ces matériaux jusqu'à 70°C, déterminer l'état de chaque matériau ;

Matériaux	Etat de matériau
PP _{homo}	
PA	
PS	
PVC	
PMMA	

8. Si on chauffe ces matériaux jusqu'à 200°C, déterminer l'état de chaque matériau ;

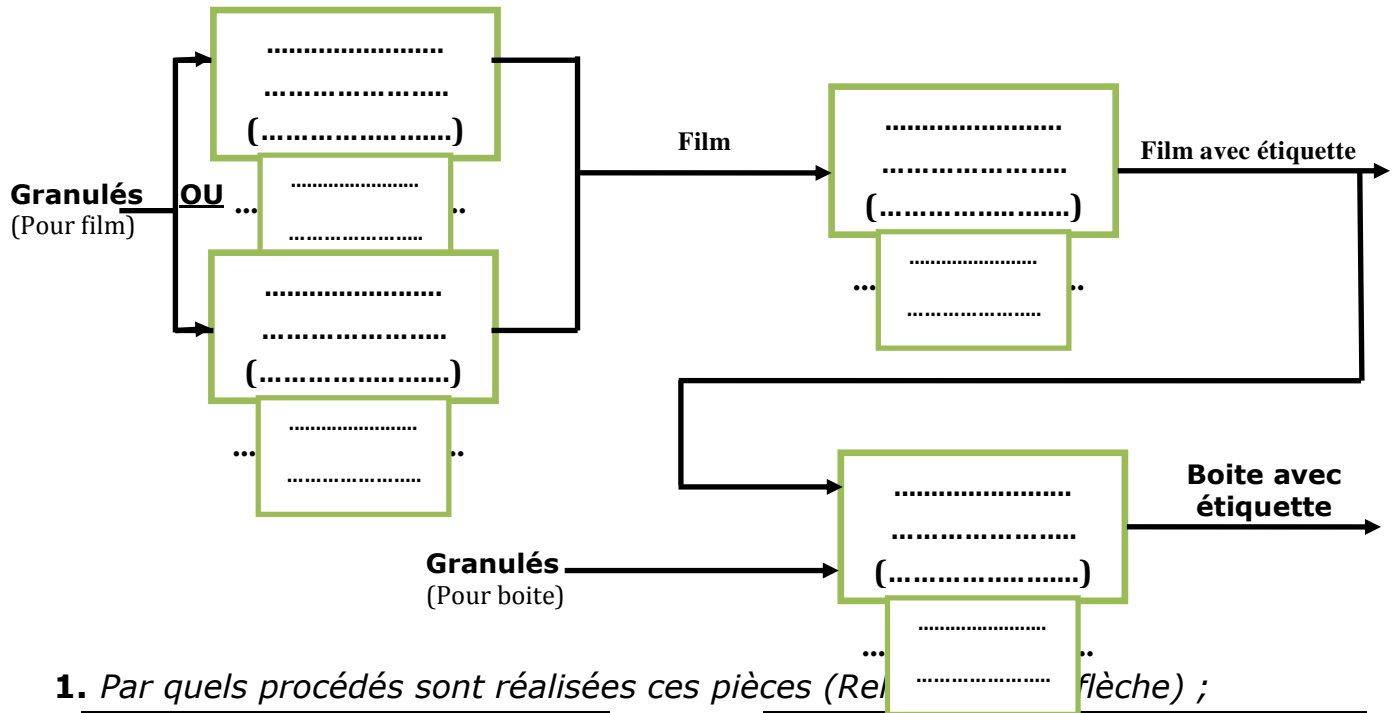
Matériaux	Etat de matériau
PP _{homo}	
PA	
PS	
PVC	
PMMA	

EXERCICE 2 : (6.5 POINTS)

La technique de moulage avec décor permet de réaliser des pièces avec étiquette ou emblème. Compléter le schéma suivant qui montre toutes les étapes de fabrication d'une boîte de glace avec décor sur son contour extérieur ;



1. Indiquer dans chaque case, le type de procédés et entre parenthèse l'outillage nécessaire ;
2. Indique le nom de la machine au-dessous de la case ;



1. Par quels procédés sont réalisées ces pièces (Relever la flèche) ;

rasoirs
Manches de brosse à dents
Collecteurs d'admission d'automobile
Accoudoir (automobile)
peigne
Talon de chaussures

<i>Injection multicouleur</i>
<i>Injection sur noyau fusible</i>
<i>Injection multimatière</i>
<i>Injection en creux</i>

Brosserie
Fleurs artificielles
cassette
Téléphone portable
Douilles
Barrette de cheveux

<i>Injection avec décor dans le moule</i>
<i>Injection sur insert</i>
<i>Injection avec effet d'écailles</i>

2. Donner le principe du revêtement par immersion, faire un schéma ;

.....

.....

.....

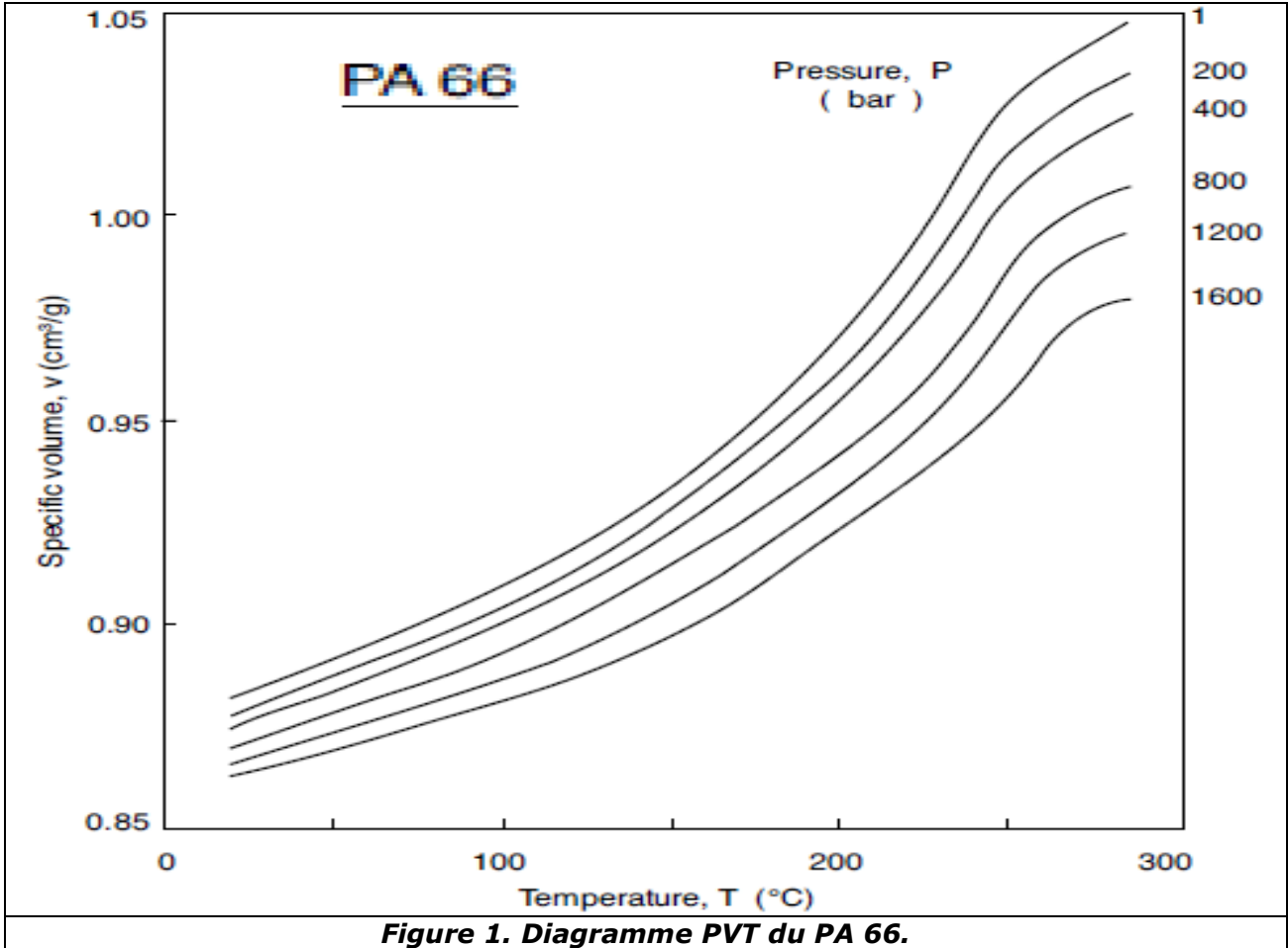
.....

.....

EXERCICE 3 : (6 POINTS =2+1.5+1.5+1)

La figure 1 montre le diagramme **PVT** du PA 6-6. On souhaite simuler le cycle d'injection et déterminer le retrait total de la pièce injectée.

1. Simuler le cycle de moulage du PA 6-6 dans les deux cas suivants sur la figure 1:
 - sans maintien (en bleu) : $P_i=800$ bars, température d'injection= 270 °C;
 - avec maintien (en rouge) : $P_i=1200$ bars, température d'injection= 250 °C, $P_m= 1/3$ de P_i et le seuil d'injection fige à 150°C ;



2. Estimer le retrait volumique dans les deux cas ;

.....

.....

.....

.....

3. Soit à réaliser une pièce cylindrique par injection avec maintien de diamètre 10 mm et de hauteur 20 mm, la masse de la pièce est 50g. Déterminer le volume de la cavité de moule ;

.....

.....

.....

.....

4. D'après ce diagramme PVT, Déterminer le type de structure du PA 6-6 ;

.....